

# كيمياء : الصف التاسع

## الوحدة الأولى : طبيعة المادة Nature of matter

**المادة :** كل ما يشغل حيزاً من الفراغ وله كتلة .

**علم الكيمياء :** هو العلم الذي يهتم بدراسة سلوك المادة وكيفية تغيرها من نوع لآخر .

**حالات المادة :** للمادة ثلاث حالات هي ( صلبة ، وسائلية ، وغازية ) .

**الضغط والحرارة أو كليهما :** يغيران حالة المادة .....كيف ؟

- **زيادة الضغط ودرجة الحرارة** تُحدث تغيير في المادة ، وتختلف كل حالة من حالات المادة في تأثير الضغط ودرجة الحرارة عليها .....كيف ؟

- **التغيرات في الحالة الفيزيائية :**

- ( يقصد بالحالة الفيزيائية للمادة : اللون الحجم الملمس الحالة .....الخ ) .

- يمكن للتغيرات الكبيرة في الضغط ودرجة الحرارة أن تسبب تغيرات في حالات المادة تتعدى الإنكماش و التمدد .

**الجدول الموضح :** يبين التغير في حالات المادة الثلاث

عند رفع حارة المادة أو خفضها عند الضغط الجوي

العادي

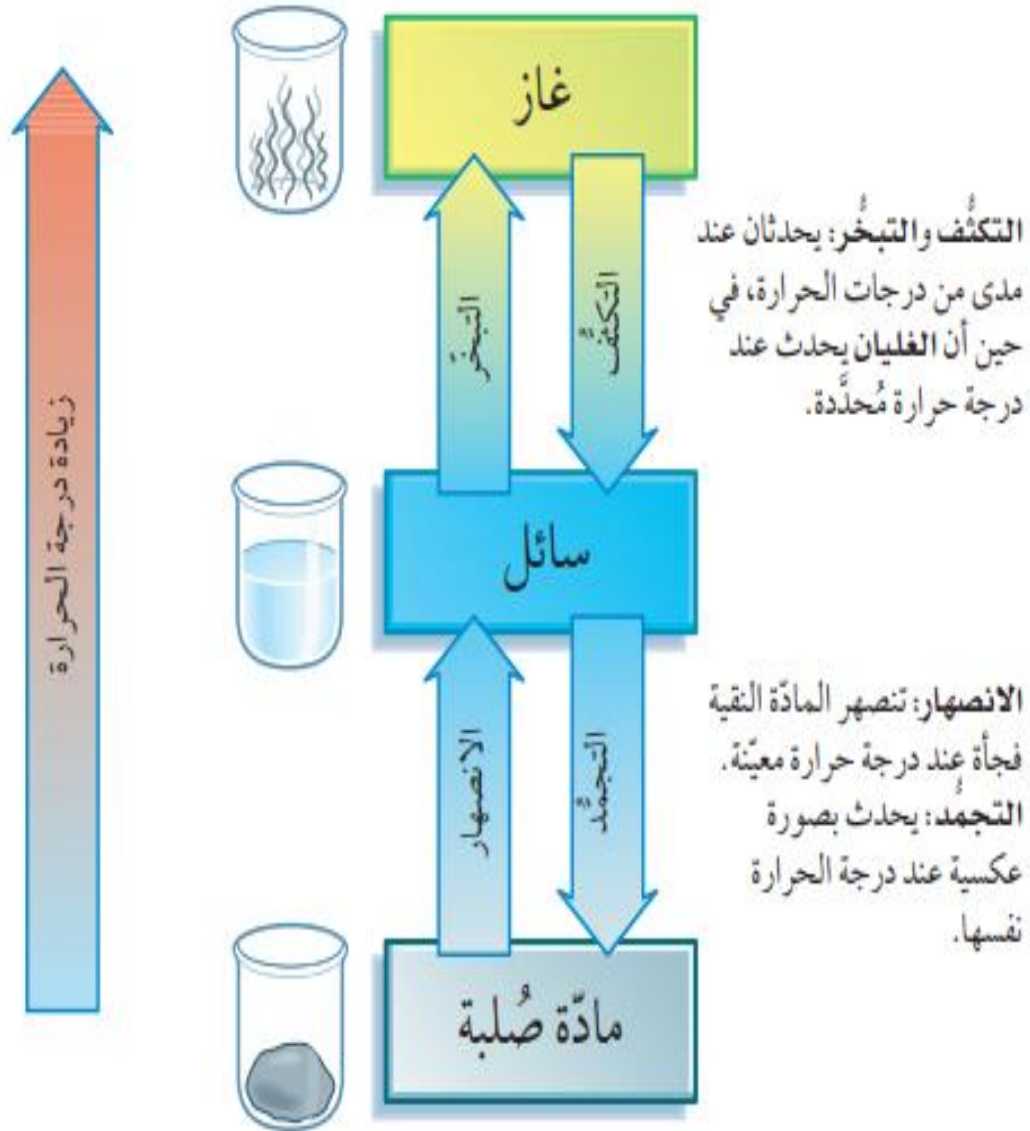
التدفق	الشكل	الكثافة	الحجم	الحالة الفيزيائية
لا تتدفق	لها شكل محدد	مرتفعة	لها حجم ثابت	الصلبة
تتدفق عادةً بسهولة	ليس لها شكل محدد، تأخذ شكل الوعاء الذي توضع فيه	متوسطة إلى مرتفعة	لها حجم ثابت	السائلة
تتدفق بسهولة	ليس لها شكل محدد، تأخذ شكل الوعاء الذي توضع فيه	منخفضة	ليس لها حجم ثابت بل تنتشر لتملأ الوعاء الذي توضع فيه.	الغازية

الجدول ١-١ التباين في خصائص حالات المادة الثلاث

## الإنصهار والتجمد:

- **درجة الإنصهار:** هي درجة الحرارة التي تتحول عندها المادة الصلبة النقية إلى سائل .
- **درجة التجمد :** هي درجة الحرارة التي تتحول فيها المادة من الحالة السائلة للحالة الصلبة .
- **مع العلم :** أن درجتا الإنصهار والتجمد لاي مادة نقية ( متماثلتين ) ..... مثال إنصهار الماء النقي وتجمده ، يحدثان عند درجة حرارة ( 0° C ) .

**التغيرات في الحالة الفيزيائية :** يوضح الشكل التالي حالات المادة والتغيرات الحادثة في حالاتها



**التغيرات في الحالة الفيزيائية :** يوضح الشكل التالي

حالات المادة والتغيرات الحادثة في حالاتها

ماذا تستنتج من الرسم ؟

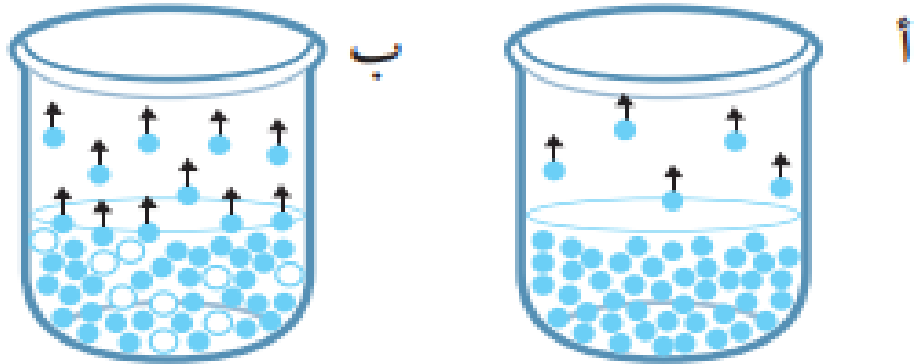
**التبخر و الغليان والتكثف**

**التبخر :** تحول السائل إلى غاز عندما يترك معرضاً للهواء .

- العلاقة بين التبخر ومساحة السطح المتبخر ودرجة الحرارة .

- العلاقة طردية ..... ماذا يعني ذلك ؟

الشكل ١-١ التغيرات في الحالة الفيزيائية، وتأثير زيادة درجة الحرارة تحت الضغط الجوي العادي



الشكل ١-٢ الكرات الزرقاء تمثل جسيمات المادة في الحالتين السائلة والغازية.  
(أ) عملية التبخر

(ب) عملية الغليان؛ الكرات البيضاء تمثل فقاعات الغاز المتكوّنة داخل السائل، نتيجة الغليان

**الغليان :** إذا ارتفعت درجة حرارة السائل ( النقي )

لدرجة معينة ؛ يصبح السائل ساخناً إلى حد يكفي لتكوين

الغاز داخله ، وليس فقط على سطحه .....

الشكل ( 1 - 2 ) يوضح الفرق بين التبخر والغليان .

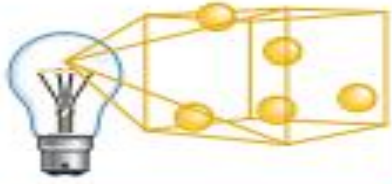
**تعريف هام :**

**السائل المتطاير volatile :** سائل يتبخر بسهولة ، وله درجة غليان منخفضة نسبياً .

**مثال :** الإيثانول درجة غليانه (  $78^{\circ}C$  ) سائل أكثر تطايراً من الماء النقي درجة غليانه (  $100^{\circ}C$  ) .

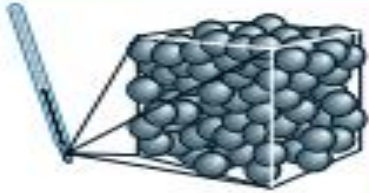
أشرح كيف يؤثر ارتفاع درجة الحرارة على المادة بحالاتها الثلاث ؟





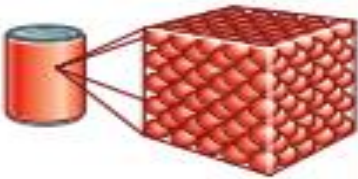
تكون الجسيمات في الغاز:  
• غير مُنظمة تمامًا  
• مُتشرة بشكل مُتباعد جدًا،  
مقارنة بالحالتين السائلة  
والصلبة  
• تتحرك عشوائيًا

عند التسخين، تتحرك الجسيمات بسرعة أكبر، وتمتلك بعض الجسيمات طاقة كافية للانفلات من السطح، فتحدث عملية التبخر. ومع ارتفاع درجة الحرارة، يزداد عدد الجسيمات التي تمتلك ما يكفي من الطاقة للانفلات. ويكون التبخر أسرع عند درجات الحرارة المرتفعة، وعند درجة الغليان، تكون الجسيمات قد امتلكت طاقة كافية لكسر قوى التجاذب بينها، فتتحرك بسرعة كبيرة جدًا، ويفصل بعضها عن بعض؛ وعندما يغلي السائل.



**السائل Liquid**  
تكون الجسيمات في السائل:  
• مُتراصة إلى حد ما  
• في ترتيب غير منتظم  
• قادرة أن تتحرك ويتجاوز بعضها بعضًا

عندما ترتفع درجة الحرارة، تكسب الجسيمات طاقة، وتهتز بقوة أكبر، بحيث تشغل حيزًا أكبر، ما يؤدي إلى تمدد المادة الصلبة. في النهاية، تمتلك الجسيمات طاقة كافية لكسر القوى التي تبقى جسيمات الشبكة متماسكة. عندئذ يمكن للجسيمات أن تتحرك؛ فتتغير المادة الصلبة.



**المادة الصلبة Solid**  
تكون الجسيمات في المادة الصلبة:  
• متراصة بقوة معًا  
• في ترتيب منتظم أو شبه منتظم  
• غير قادرة على الحركة بحرية، ولكنها بساطة تهتز في أماكنها الثابتة.

الشكل ٣-١ النموذج الحركي وتفسير التغيرات في الحالة الفيزيائية

أشرح كيف يؤثر ارتفاع درجة الحرارة على المادة بحالاتها الثلاث

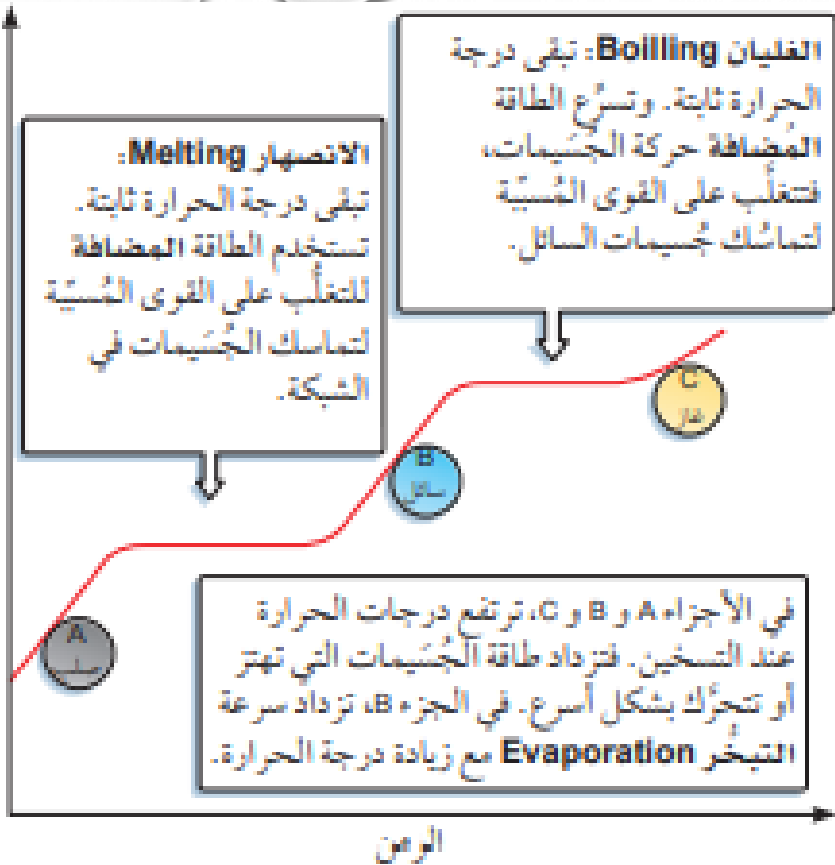
النموذج الحركي وتفسير التغيرات في الحالة الفيزيائية

علل : الغازات قابلة للانضغاط اكثر من السوائل ؟

وضح بالرسم البياني : التغيرات في الطاقة الحرارية التي تحدث خلال عمليتي التسخين والتبريد .

الشكل يوضح ما يحدث عند عكس التجربة أي منحنى التبريد

عند عكس التجربة المُبيَّنة في الشكل ١-٤ نحصل على مُنحنى التبريد فتبقى درجة الحرارة ثابتة أثناء التكثيف والتجميد، ويتم إطلاق الطاقة. يُعدّ التكثيف والتجميد عمليتين طاردتين للحرارة Exothermic، في حين يُعدّ الانصهار والتبخّر والغليان عمليات ماصة للحرارة Endothermic.



الشكل ١-٤: تغيرات الطاقة التي تحدث خلال عمليتي التسخين والتبريد

## أنواع الجسيمات

تتركب المادة من ثلاثة أنواع من الجسيمات هي :

1 - الذرات **Atome**

2 - الجزيئات **Molecules**

3 - الأيونات **Ions**

**الذرة :** تُعد أصغر جسيم في المادة . وتوجد بشكل منفرد .

**الأيونات :** هي ذرات تحمل شحنات موجبة أو سالبة ,,,,,,,,,,,,,, كيف ؟

**الجزيئات :** هي جسيمات المادة التي تشكلت من اندماج ذرتين أو أكثر .

**تأثير الشوائب :**

تعمل الشوائب على تغيير درجة غليان وتجمد السوائل ..... كيف تغير الاملاح جرجة غليان وتجمد الماء المقطر ؟

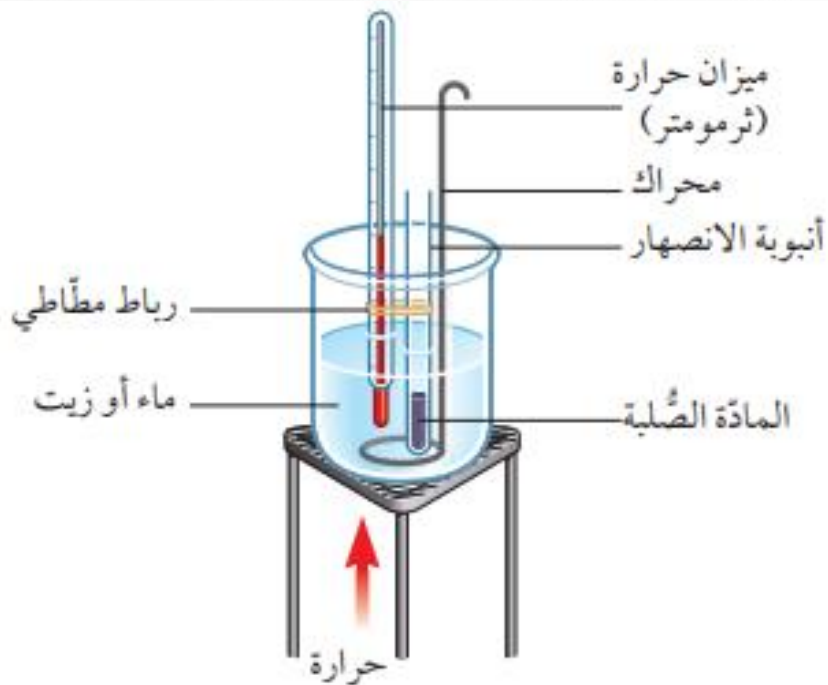
**علل :** وجود الشوائب يجعل تحديد درجات غليان إنصهار مادة سائلة بصورة دقيقة غير ممكن؟

لأن درجة الغليان والإنصهار للسائل تختلف بحسب نوع الشوائب في السائل .

عموماً : ..... تعمل الشوائب على :

1 - رفع درجة غليان المادة .

2 - خفض درجة إنصهار المادة .



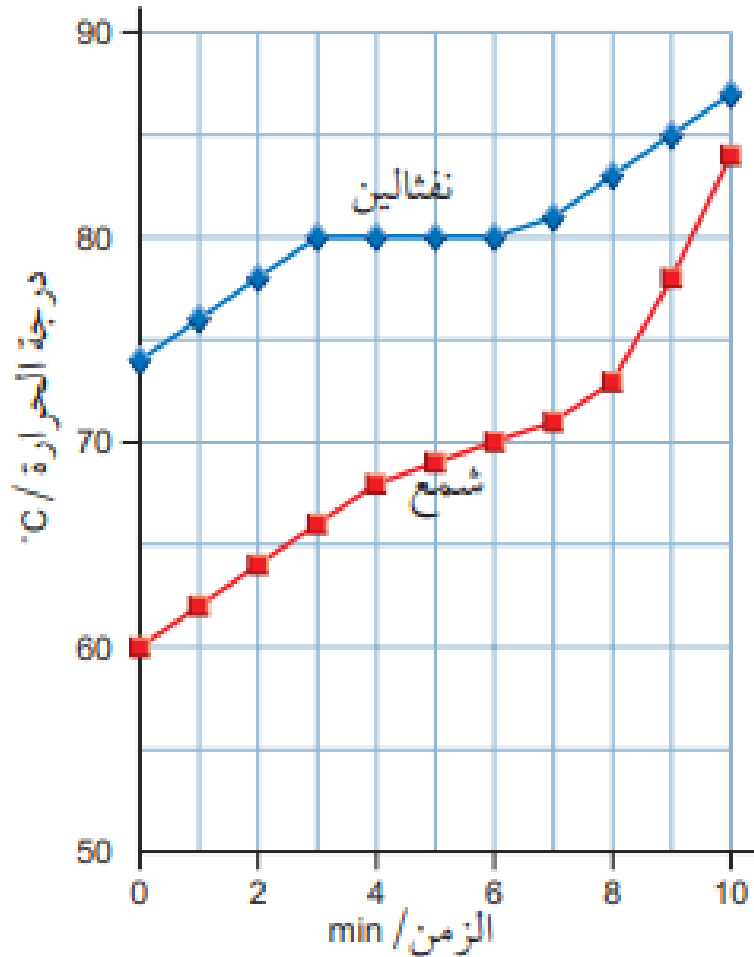
الشكل ١-٥ جهاز قياس درجة انصهار المادة الصلبة. يُستخدم حمام من الماء لقياس درجات الانصهار التي تقل عن  $100^{\circ}\text{C}$ ، ويُستخدم حمام من الزيت لقياس درجات الانصهار التي تزيد على  $100^{\circ}\text{C}$

## منحنيات التبريد و التسخين

يستخدم الجهاز الموضح لقياس درجات ( الإنصهار و الغليان ) لمادة ما

وبالعكس يمكن تسجيل درجات ( التكتيف والتجمد بالتبريد ) بنفس الجهاز





الشكل ٦-١ مُنحني تسخين  
النفتالين (مادة نقية)، ومُنحني  
تسخين الشمع (مخلوط من  
عدة مواد)

من خلال المقارنة بين منحنى التسخين لمادتي ( النفتالين ، و الشمع )  
نستنتج ما يلي :

- أن النفتالين وهو ( مادة صلبة نقية ) ينصهر عند  $( 80 \text{ C}^\circ )$  بالضبط .  
وتظل درجة الحرارة ثابتة ولا تتغير أثناء الإلتصهار .
- أما الشمع : وهو ( مادة صلبة يتكون من مخلوط من المواد )  
ينصهر وفق ( مدى Range ) من درجات الحرارة .

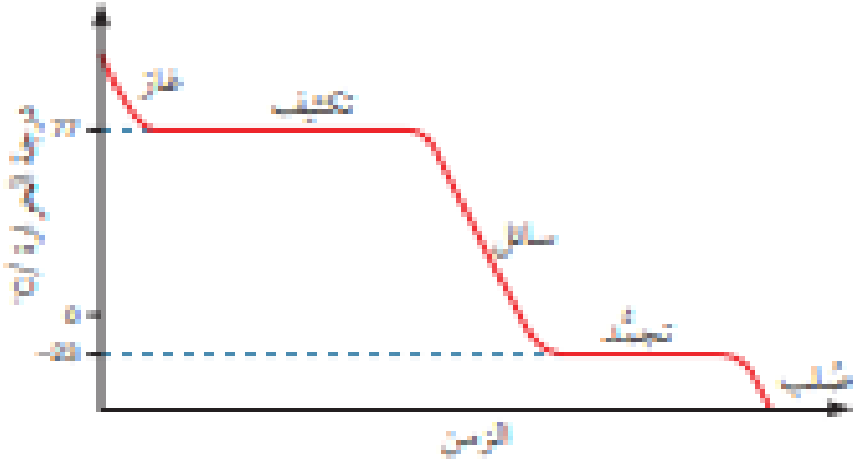
## منحنى التبريد :

يمكن أن نحدد منحنى التبريد لتعيين درجة التكثيف ودرجة التجمد لسائل..... كيف؟

- ماذا نستنتج من المنحنى لدرجة التكثيف ودرجة التجمد؟
- المنحنى يكون أفقي

## حقيقة

أثناء انصهار المادة الصلبة (النقية)، أو غليان السائل، تبقى درجة الحرارة ثابتة حتى تنتهي العملية كلياً. ويحدث الأمر نفسه في العمليات العكسية: أي لدى تكثف الغاز أو تجمد السائل.



الشكل ٧-١ منحنى تبريد مادة نقية. تبقى درجة الحرارة ثابتة أثناء تكثف الغاز، وكذلك أثناء تجمد السائل. ويمكن استخدام مخلوط من الملح والجليد لخفض درجة الحرارة إلى ما دون 0°C

## نشاط ( 1 - 1 ) ..... رسم منحنى تبريد .

### حل اسئلة النشاط :

1 - أي المادتين تُعتبر مادة نقية - فسر إجابتك ؟ المادة B السبب أن درجة إنصهارها محددة ودقيقة في الجزء المُسطح من المنحنى .

2 - كيف يمكنك تحسين إجراءاتك للحصول على نتائج أفضل ؟

أقرأ درجات الحرارة بشكل متكرر كل 30s ( مثلاً ) يسهل استخدام ميزان الحرارة الرقمي أخذ القراءات بدقة ؛ ويسمح استخدام مستشعر درجة حرارة متصل بكمبيوتر للتمثيلات البيانية بتنفيذ التمثيل البياني أثناء أخذ القراءات . ويمكن إعادة تسخين العينات وتبريدها مرة أخرى ، ما يسمح بإنتاج مجموعات مُكررة من البيانات .